

# 2018世界城市杯三算全能競賽模擬試題

2018 World City Cup Competition in Mental Arithmetic, Abacus and Mathematics Mock Paper




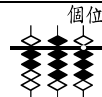
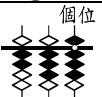
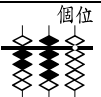
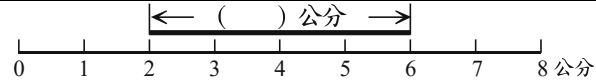
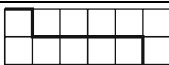

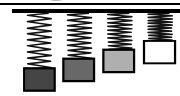


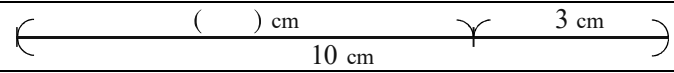
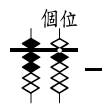
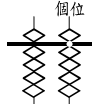
第五科目：三年級組 珠心算應用學（數學）試題

限制時間：15分鐘（每題10分，共300分）

## 一、選擇題

| 題號 | 答案欄 | 注意：答案寫在答案欄裡   | 小計：_____ |
|----|-----|---|----------|
| 1  |     | 305 →  → ( ) →  , ( ) = ① 310 ② 285 ③ 295。  |          |
| 2  |     | 時針走一大格是 ① 5 ② 1 ③ 60 分鐘。  |          |
| 3  |     | 阿勇買遙控飛機花  元，剩下45元，阿勇原有 ① 298 ② 253 ③ 45 元。   |          |
| 4  |     |  再過55分鐘是 ① 7點0分 ② 6點30分 ③ 8點5分。  |          |
| 5  |     | 公車上原30人，下車5人，又上車9人，公車上還有 ① 31 ② 32 ③ 34 人。  |          |
| 6  |     | 小花量身高指示數字是130，小花的身高是 ① 130 kg ② 130 cm ③ 130 m。   |          |
| 7  |     |  是 ① 12點30分 ② 6點5分 ③ 1點30分。   |          |
| 8  |     | $8 + 8 + 8 + 8 + 8 + 8 + 8$ 是 ① 8 ② 6 ③ 7 個8相加。   |          |
| 9  |     | 2個百和8個一，合起來是 ①  ②  ③  。   |          |
| 10 |     | 今天是星期四，前天是星期 ① 一 ② 二 ③ 三。   |          |
| 11 |     | 用20cm的尺量桌子的長度，量到第3次，桌子多出5cm，桌子長度是 ① 5 ② 65 ③ 55 cm。   |          |
| 12 |     | ①  ②  ③  的圖形是正方形。  |          |
| 13 |     | $58 + 47 - 9 =$ ① 96 ② 86 ③ 95。   |          |
| 14 |     | 小花有3個10元，小明比小花多5個10元，小明有 ① $10 \times 2$ ② $10 \times 8$ ③ $10 \times 5$ 元。   |          |
| 15 |     |  ①  ②  ③  最重。 |          |

## 二、填空題

| 題號 | 注意：答案寫在答案欄裡   | 小計：_____ | 答案欄   |
|----|---|----------|---|
| 1  | 最長的是 ①  ②  ③  [填代號]  |          |   |
| 2  |  、  、  、  ，最大的是( )。 [填數字] |          |   |
| 3  |  ( ) 公分  |          |   |
| 4  |  每一個□邊長是1cm，粗黑線是( )cm。   |          |   |
| 5  | $123 - ( ) = 98$  |          |   |
| 6  | $29 - 9 ( ) 29 - 8$ [填>、=、<]  |          |   |
| 7  | $31 + 1 ( ) 31 - 5$ [填>、=、<]  |          |   |
| 8  |  是( )點( )分。  |          | ____，<br>_____  |
| 9  |  ( )最重。 [填代號]   |          |   |
| 10 | 3個8比9個8少( )。  |          |   |
| 11 |  再過5小時是( )點( )分。   |          | ____，<br>_____  |
| 12 |  ，共是( )元。  |          |   |
| 13 |  ( ) cm  |          |   |
| 14 | 畫一個長方形。   |          |   |
| 15 |  -  = ( ) [塗算珠]   |          |  |