

# 2018世界城市杯三算全能競賽模擬試題

2018 World City Cup Competition in Mental Arithmetic, Abacus and Mathematics Mock Paper

















第五科目：一年級組 珠心算應用學（數學）試題

限制時間：15分鐘（每題10分，共300分）

## 一、選擇題

題號	答案欄	注意：答案寫在答案欄裡	小計：_____
1		$13 - 2 - 2 =$ ① 11 ② 9 ③ 15。	
2		小強有 12 個玩具，給了弟弟 6 個，他還有 ① 6 ② 7 ③ 18 個玩具。	
3		★ ●■▲■，從左邊數起第 4 個是 ① ● ② ■ ③ ▲。	
4		☺☺☺☺☺ 共有 ① 4 ② 5 ③ 6 個 ☺。	
5		 和  合起來有 ① 1 ② 5 ③ 7 個 ◆ 長。	
6		樹上有  蘋果，掉了 4 顆，樹上還有 ① 7 ② 6 ③ 14 顆。	
7		 表示 ① 20 ② 2 ③ 12。	
8		阿銘現在 5 歲，2 年後阿銘是 ① 3 ② 12 ③ 7 歲。	
9		○△□，長方形的左邊第一個是 ① ○ ② △ ③ □。	
10		阿凱早上  要出門上課，他需要 1 個小時的準備時間，阿凱要在 ① 8 ② 6 ③ 7 點起床。	
11		小銘在 7 樓，還要往上走 6 樓才可以到書店，書店在第 ① 1 ② 14 ③ 13 樓。	
12		小傑有 8 隻金魚，又買了 7 隻，小傑共有 ① 15 ② 14 ③ 16 隻。	
13		 共有 ① 4 ② 10 ③ 11 朵。	
14		□☆○△，☆在△的 ① 左邊 ② 中間 ③ 右邊。	
15		一串香蕉有 7 根，兩串香蕉有 ① 14 ② 7 ③ 9 根。	

## 二、填空題

題號	注意：答案寫在答案欄裡	小計：_____	答案欄
1	 $\rightarrow$ ( ) $\rightarrow$  $\rightarrow$ 7 [填數字]		
2	 可以分成 9 和 ( )。 [填數字]		
3	比 4 大 7 的數字是 ( )。		
4	$13$ ( ) $5 = 8$ [填+或-]		
5	 ，左圖是 ( ) 形。		
6	①  ②  ( ) 比較短。 [填代號]		
7	 是 ( ) 點。		
8	及  ，  比 少 ( ) 個。		
9	○○○○○○○○○○○○○ 共有 ( ) 個圓形。		
10	 共有 (  )。 [塗算珠] 		
11	 和 ( ) 合起來是 6。		
12	 ，總共有 ( ) 個三角形。		
13	 是 ( ) 形。		
14	比  小 9 的數是 ( )。		
15	$5 \rightarrow 10 \rightarrow$ ( ) $\rightarrow 20$		